

العام الدراسي ٢٠١٨ - ٢٠١٩ م

امتحان نهاية الفصل الدراسي الأول

وزارة التربية

الزمن ساعة ونصف

لمادة الاجتماعيات للصف السادس

الإدارة العامة للتعليم الخاص

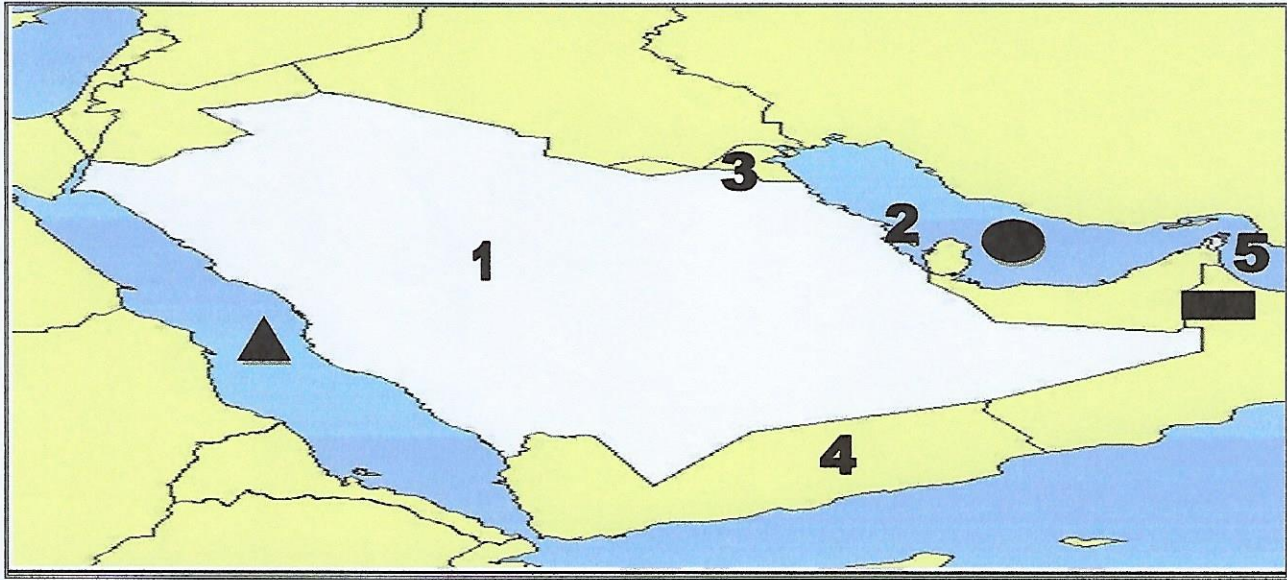
عدد الأوراق (٥)

الكويت ودول الخليج العربية

التوجيه الفني للإجتماعيات

السؤال الأول : ويتكون من (أ - ب) :

(أ) أمامك خريطة صماء لشبه الجزيرة العربية لاحظها جيدا ثم اجب عما يليها : (٦=٦*١)



أولا - اكتب الرقم الدال على كلا مما يلي :

ص ٢٣

٥

١- خليج عمان يحمل على الخريطة الرقم

ص ١٩

٣

٢- دولة الكويت تحمل على الخريطة الرقم

ص ٤٩

٢

٣- حضارة دلمون تحمل على الخريطة الرقم

ثانيا - عين على الخريطة باستخدام الرموز التالية :

ص ٢٣



١ - الخليج العربي

ص ٢٣



٢- البحر الأحمر

ص ٢٣



٣- الجبل الأخضر

(ب) صنف الهجرات التالية حسب مكانها المناسب في الجدول التالي : (٦=٦*١) ص ٥٧

(المعاضيد - اليعاربة - آل صباح - آل خليفة - القواسم - بني ياس)

| منطقة الاستقرار | الكويت | أبو ظبي | عمان | رأس الخيمة | قطر | البحرين |
|-----------------|---------|---------|----------|------------|----------|----------|
| الهجرة | آل صباح | بني ياس | اليعاربة | القواسم | المعاضيد | آل خليفة |

السؤال الثاني : ويتكون من (أ - ب) :

(أ) أكمل العبارات التالية بما يناسبها مما درست : (١*٦=٦)

- ١ - الدولة العربية التي قامت على أرضها حضارة مجان تسمى سلطنة عمان ص ٤٨
- ٢ - أشهر الحرف التي مارسها أبناء منطقة الخليج العربية قديماً تسمى الغوص على اللؤلؤ ص ٣١
- ٣ - العام الميلادي الذي صدرت فيه وثيقة الدستور الكويتي ١٩٦٢ ص ٦٤
- ٤ - المدينة العربية الخليجية التي عقدت فيها القمة السابعة والعشرون لمجلس التعاون الخليجي اسمها الرياض ص ٧٤
- ٥ - العام الميلادي الذي تم فيه انطلاق السوق الخليجي المشترك ٢٠٠٨ ص ٧٧
- ٦ - يبلغ عدد درجات العرض التي تشغلها منطقة الخليج العربية شمال خط الاستواء ١٦ ص ١٩

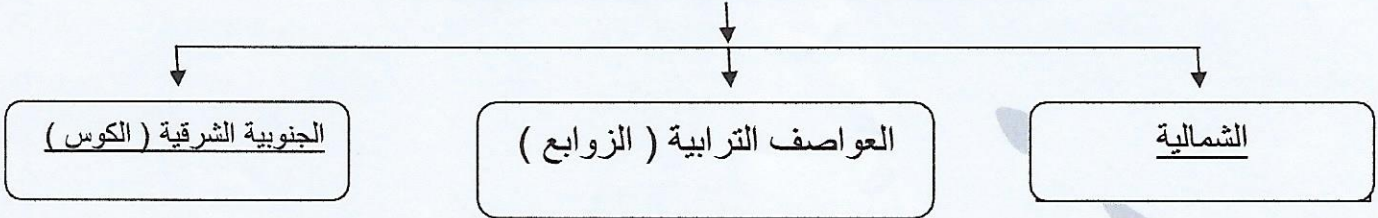
(ب) ضع خطاً تحت الخيار الصحيح من بين الخيارات التي تلي كل عبارة مما يلي :- (١*٦=٦)

- ١- الشهر الميلادي الذي يبدأ فيه موسم الغوص على اللؤلؤ في دولة الكويت قديماً يسمى :
(مارس - أبريل - مايو - يونيو) ص ٣٢
- ٢- القرن الميلادي الذي ظهر فيه الإسلام هو :
(السادس - السابع - الثامن - التاسع) ص ٥٣
- ٣- الجهة التي تقع فيها منطقة الخليج العربية بالنسبة لقارة آسيا :
(الشمالية الغربية - الجنوبية الغربية - الشمالية الشرقية - الجنوبية الشرقية) ص ١٩
- ٤- الاسم الذي أطلق علي ربان سفينة الغوص على اللؤلؤ في دولة الكويت قديماً :
(المجدمي - النهام - الثياب - النوخذة) ص ٣٢
- ٥- الدولة العربية الخليجية التي لم تخضع للاستعمار اسمها :
(المملكة العربية السعودية - الكويت - قطر - البحرين) ص ٦٥
- ٦- الدولة الأوروبية الاستعمارية الأولى التي وصلت إلى الخليج العربي اسمها :
(انجلترا - هولندا - البرتغال - اسبانيا) ص ٦٠

السؤال الثالث : ويتكون من (أ - ب) :


(أ) إملاً الفراغات في المخططات السهمية التالية بما يناسبها مما درست : (٦*٦=٦)

١- أنواع الرياح التي تهب على منطقة الخليج العربية ص ٢٥

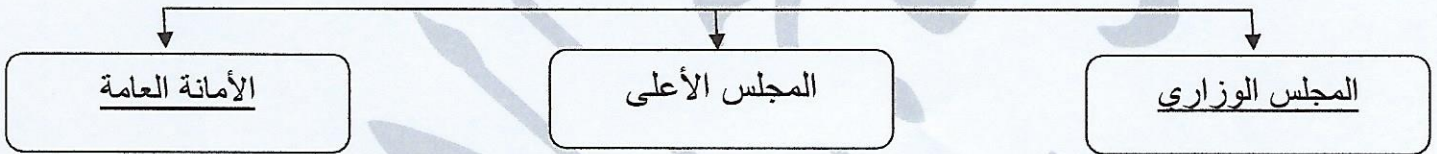


ص ٢٨

٢- الأنشطة البرية لسكان منطقة الخليج العربية قديماً



٣- الهيكل التنظيمي لمجلس التعاون الخليجي



(ب) اختر للمجموعة (أ) ما يناسبها من المجموعة (ب) بوضع الرقم في المكان المناسب :

(٦*٦=٦) ص ٣٢

| الرقم | (أ) المهنة | المكان المناسب | (ب) أهم الاعمال |
|-------|--------------|----------------|--|
| ١ | المجدمي | ٤ | مطرب السفينة |
| ٢ | الغواص | | مناولة المياه للخاصة |
| ٣ | السيب | ١ | رئيس البحرية |
| ٤ | النهام | ٦ | تاجر اللؤلؤ |
| ٥ | الرضيف | ٣ | يسحب الغاصة من اعماق البحر |
| ٦ | الطواش | ٥ | صغار السن وهو المساعد للسيب في السفن الكبيرة |
| | | | بغوص في اعماق البحر بحثاً عن اللؤلؤ |

السؤال الرابع : ويتكون من (أ - ب) : (٦=٦*١)

(أ) - عرف ما يلي :

١ - المناخ : حالة الجو في مكان ما خلال فترات زمنية طويلة . ص ٢٥

٢ - الاستعمار : أن تسيطر دولة قوية على دولة ضعيفة بهدف استغلال مواردها وخيراتها

ص ٦١

٣ - الاستقلال : تحرر الدولة من المستعمر الأجنبي وقيامها بمسؤولية إدارة شئونها الداخلية

والخارجية . ص ٦٣

٤ - الواحة : منطقة تقع في الصحراء فيها مياه عذبة صالحة للزراعة

ص ٢٩

٥ - الديمقراطية : حكم الشعب لنفسه

ص ٦٤

٦ - التضاريس : أشكال سطح الأرض

ص ٢٣

(ب) عدد ما يلي : (٦=٦*١)

ص ٥٥

١- مظاهر الحضارة الإسلامية .

- الفن

- الصناعة

- العمران

ص ٣١

٢- وسائل صيد الأسماك في الكويت قديما .

- الميذار

- الحظرة

- القرقور

السؤال الخامس : ويتكون من (أ – ب) :

(أ) علل ما يلي : (٦=٦*١)

١ – توافر النباتات المعمرة طوال العام في دول الخليج العربي .

ص ٢٦

* تتحمل الجفاف

* تتحمل ارتفاع درجة الحرارة

٢ – سفينة البغلة أفضل أنواع السفن المستعملة في السفر قديما في منطقة الخليج العربي .

ص ٣٤

* متانتها وقدرتها على نقل الحمولة الكبيرة

* قلة تعرضها للأخطار البحرية

٣ – انصراف سكان دول الخليج العربي عن مهنة الغوص علي اللؤلؤ .

ص ٣١

* اكتشاف النفط

* ظهور اللؤلؤ الصناعي

(ب) قارن بين كلا مما يلي حسب الجدول التالي : (٦=٦*١)

ص ٢٣

| وجه المقارنة | الجبال | التلال | الهضاب |
|--------------|--|----------------------------------|---|
| التعريف | كل مرتفع له قمة لا يقل عن ١٠٠٠ متر | كل مرتفع يقل ارتفاعه عن ١٠٠٠ متر | ارض مرتفعة سطحها مستوي تمتد لمساحات كبيرة |
| أمثلة | - الأخضر - عسير - الحجاز يكتفي بمثال واحد فقط | جال الزور | نجد |